

Geologia:

1) (PUC/CAMP) - Objeto de ambição, eis uma expressão que cabe perfeitamente quando nos referimos ao subsolo brasileiro. Explica a afirmação, entre outras causas:

- a) a extensa área de terrenos pré-cambrianos ricos em minérios;
- b) a ocorrência de combustíveis fósseis no escudo cristalino;
- c) a baixa altimetria, responsável pela concentração mineral;
- d) a ausência de alterações geológicas desde o Mesozóico;

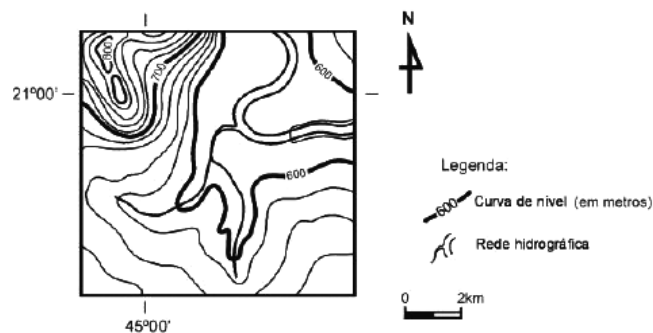
2) (UFBA) Os recursos minerais de um país são elementos vitais para o seu desenvolvimento. É importante, então, que o país tenha acesso garantido a eles, uma vez que, quanto mais depender de importações, maior será sua vulnerabilidade. O Brasil, um país em desenvolvimento, possui grandes reservas minerais nos terrenos cristalinos de origem proterozóica que afloram em 4% do seu território. *GARCIA; GARAVELLO, 1992, p. 131.*

A análise do texto e os conhecimentos sobre as rochas, os recursos minerais e sua produção e comercialização no Brasil e no mundo possibilitam afirmar:

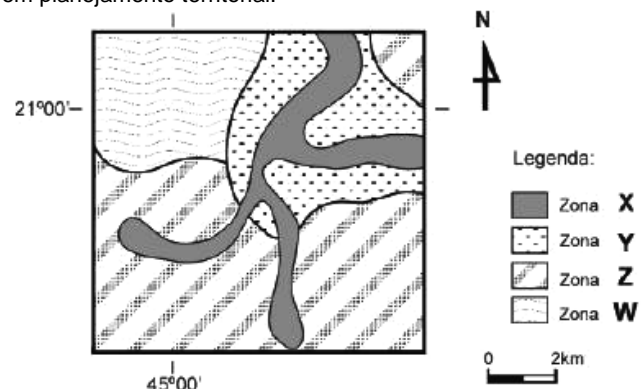
- 1) Os minérios são extraídos de rochas constituídas de elementos químicos cujo teor apresenta valor econômico que viabiliza a exploração comercial das jazidas.
- 2) O granito e o basalto são rochas freqüentes na crosta terrestre, sendo o granito a base da estrutura rochosa do assoalho oceânico, e o basalto, formador da superfície emersa da crosta.
- 4) Os minérios têm grande participação no volume das exportações e das importações de muitos países, destacando-se, entre os exportadores, a Austrália, o Canadá, a África do Sul, o Brasil e a Rússia.
- 8) O Quadrilátero Central, em Minas Gerais, a Serra dos Carajás, no Pará, e o Maciço de Urucum, em Mato Grosso do Sul, são as principais áreas de ocorrência e de produção do minério de ferro no Brasil.
- 16) A produção mineral é a base de sustentação dos países subdesenvolvidos, pois os custos de produção são baixos, e os preços dos minérios são sempre elevados no mercado.
- 32) Os recursos minerais são considerados auto-renováveis, porque têm um ritmo de reposição na natureza muito rápido e grande disponibilidade em extensas jazidas na superfície terrestre.
- 64) A exploração dos recursos minerais é responsável por graves impactos ambientais, como o desflorestamento, a erosão, a modificação do relevo, a poluição do ar, do solo e da água, com sérios danos para a saúde e para a biodiversidade.

Relevo

3) (UFMG) Analise este mapa topográfico, em que estão representados os principais elementos do relevo de um trecho do território brasileiro:



Analise, agora, esta proposta de zoneamento ambiental para essa mesma área elaborada por uma equipe de especialistas em planejamento territorial:



A partir da análise do mapa topográfico e da proposta de zoneamento correspondente, é incorreto afirmar que a zona ambiental:

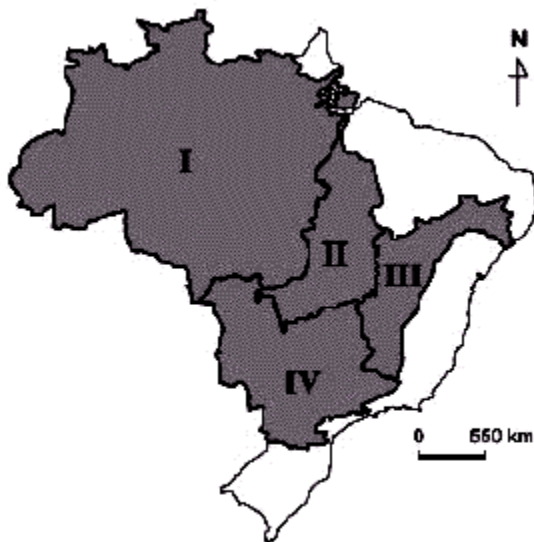
- a) W, devido às características de seu relevo, apresenta potencial para o uso agrícola, com destaque para os cultivos anuais que empregam mecanização.
- b) X, por se estender pela margens dos rios e abranger nascentes e áreas adjacentes, tem sua proteção assegurada pela legislação ambiental brasileira.
- c) Y, em razão de sua topografia relativamente plana e da proximidade de cursos de água, apresenta potencialidade para a prática de agricultura irrigada.
- d) Z, graças à declividade suave e à ausência de risco associado a cheias de rios, revela potencial para a implantação de equipamentos urbanos.

4) (UNIFENAS/MG) - A formação da Lagoa dos Patos, no Rio Grande do Sul, relaciona-se à gênese de um fenômeno da Geomorfologia Litorânea. Trata-se de:

- 1) costões;
- 2) restinga;
- 4) orogênese
- 8) eustásia;
- 16) epirogênese.

Hidrografia

5) No mapa a seguir, estão destacadas quatro grandes bacias hidrográficas brasileiras – I, II, III e IV:



(Fonte: IBGE. Atlas geográfico escolar. Rio de Janeiro: IBGE, 2002. p. 108. (Adaptado))

Considerando-se o quadro ambiental em que elas estão inseridas, é incorreto afirmar que:

- a) a Bacia I contém o maior rio do Planeta em volume de água, com divisores que se localizam no Planalto das Guianas, na Cordilheira Andina e no Planalto Brasileiro, embora o médio e o baixo cursos de seus rios apresentem declive fraco;
- b) a Bacia IV é formada por rios que apresentam perfis longitudinais suaves, em que estão ausentes rupturas de declive ao longo dos cursos fluviais, condições naturais que propiciam a construção de hidrovias;
- c) a Bacia II constitui verdadeira fronteira entre complexos de vegetação adaptados a restrições hídricas – a caatinga e o cerrado –, de um lado, e a formações arbóreas densas e sempre verdes, de outro;
- d) a Bacia III está sujeita a uma distribuição pluviométrica bastante complexa, haja vista a abundância das chuvas em algumas áreas e a escassez severa em outras, responsável, em grande parte, pela perenidade ou intermitência de seus rios.

6) As informações abaixo referem-se à formação e à localização do Aquífero Guarani, o maior reservatório de água doce da América do Sul.



(Referência: Almanaque Abril - Brasil, 2002 CE p. 271)

Considerando as observações a partir dos dados anterior, não se pode afirmar que:

- a) o maior percentual de terras ocupadas por esse aquífero está localizado em território brasileiro e o restante está distribuído entre a Argentina, Paraguai e Uruguai;

- b) o aquífero corresponde às águas subterrâneas encontradas no subsolo e que ocupam os espaços vazios entre as rochas;
- c) no Brasil, o estado de São Paulo juntamente com a região Centro-Oeste detêm mais de 50% das áreas ocupadas por esse reservatório;
- d) as águas subterrâneas estão protegidas pelo material rochoso que impede a contaminação pela poluição dos lixões, fossas sépticas e resíduos industriais.

7) O Brasil possui uma vasta rede hidrográfica. As bacias hidrográficas brasileiras, com rios extensos e profundos, oferecem possibilidades de navegação em muitos trechos, além de um enorme potencial hidroelétrico, bem explorado no centro-sul do país.

Correlacione as alternativas, identificando as principais bacias hidrográficas brasileiras, e assinale a alternativa correta:

- 1) Bacia do Amazonas
- 2) Bacia do Tocantins
- 3) Bacia do São Francisco
- 4) Bacia Platina

() É uma bacia hidrográfica responsável pela drenagem de aproximadamente 7,5% do território nacional.

() Maior bacia hidrográfica do planeta, e que tem sua vertente delimitada pelos divisores de águas da Cordilheira dos Andes, Planalto das Guianas e Planalto Central.

() Segunda maior bacia hidrográfica do planeta. Seus três principais rios formam o Rio da Prata ao se encontrarem em território argentino.

() Esta bacia drena aproximadamente 9,5% do território nacional. Seus principais rios nascem no estado de Goiás e no Bico do Papagaio.

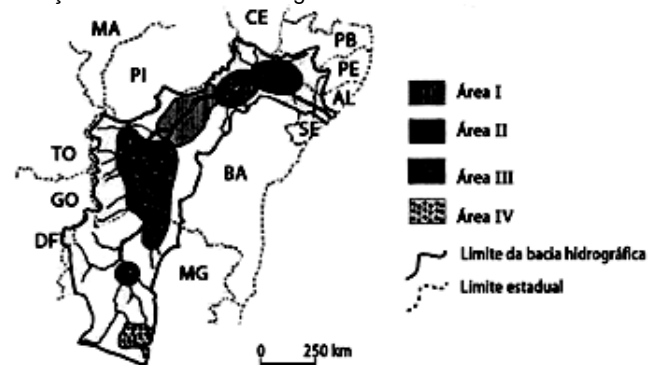
A - 3 1 4 2.

B - 2 3 1 4.

C - 2 1 4 3.

D - 3 2 4 1

8) (UFMG) A Agência Nacional de Águas (ANA) realizou, em 2002, diagnóstico ambiental das bacias hidrográficas brasileiras. Analise este mapa, que foi elaborado com base nos resultados alcançados por essa Agência no que se refere à situação atual da bacia hidrográfica do Rio São Francisco:



Fonte: Agência Nacional de Águas (ANA). **Regiões hidrográficas do Brasil:** recursos hídricos e aspectos prioritários. 2002 – CD-ROM. (Adaptado)

Nesse mapa, de acordo com a legenda que o explica, está indicado o uso da terra dessa bacia em **quatro** tipos de áreas – I, II, III e IV.

A partir dessa análise, é incorreto afirmar que:

- a) a **Área I** abriga grande número de atividades minerárias, que têm comprometido a qualidade da água pela intensificação do assoreamento e do uso de produtos tóxicos;
- b) a **Área II** tem sido alvo de conflitos decorrentes do uso múltiplo da água, notadamente para geração de hidreletricidade e para irrigação;

- c) a **Área III** apresenta grande concentração de projetos de irrigação fortemente dependentes da vazão dos rios, tendo-se em vista as reduzidas médias anuais de precipitação;
- d) a **Área IV** é caracterizada por alta concentração demográfica e industrial, responsável pela emissão de grande volume de cargas poluidoras na rede hidrográfica.

9) (UFMG) Considerando-se a disponibilidade hídrica do Planeta, é incorreto afirmar que:

- a) a água acumulada nos aquíferos subterrâneos, apesar de apresentar volume inferior àquele acumulado na superfície, em rios e lagos, tem distribuição homogênea nas diversas unidades geológicas do Globo;
- b) a água dos oceanos e mares apresenta volume muito superior ao encontrado nos continentes, mas exige, para consumo humano, sua conversão em água doce, em usinas de dessalinização;
- c) a água de mais fácil aproveitamento pelo homem, em suas diversas atividades, é doce, se encontra em estado líquido e está distribuída, na superfície dos continentes, em rios e lagos;
- d) a água doce armazenada em estado sólido é encontrada nas calotas glaciais, que ocupam as áreas polares, e nas geleiras de montanha, que ocupam zonas climáticas diversas, inclusive tropicais.

10) (UFV): O Brasil, devido à sua grande extensão territorial e à predominância de climas úmidos, tem uma extensa rede hidrográfica. Sobre a hidrografia brasileira, assinale a afirmativa INCORRETA:

- a) Todas as bacias hidrográficas são exorréicas, mesmo aquelas que têm rios que correm para o interior.
- b) As bacias hidrográficas brasileiras oferecem grande possibilidade de navegação e, em razão disso, o transporte hidroviário é muito utilizado no país, apesar de seu alto custo.
- c) Todos os rios brasileiros, com exceção do Amazonas, possuem regime pluvial. Uma pequena quantidade de água do rio Amazonas provém do regime nival, caracterizando um regime misto.
- d) Na maior parte do país os rios são perenes, contudo em áreas de clima semi-árido existem rios intermitentes.
- e) Predominam rios de planalto, o que possibilita a produção de hidreletricidade.



Meio Ambiente

11) (UFV/MG) - No dia 04 de junho de 2006, o programa Globo Rural apresentou uma reportagem sobre o processo de desertificação no Nordeste brasileiro, associado à pequena produção agrícola. Nessa matéria aparece relatado o seguinte: As áreas mais críticas ficam no Sertão Nordestino. Em Irauçaba (CE), a desertificação avança sobre a caatinga e faz surgir uma imensidão de areia; o mesmo ocorre no Seridó, entre o Rio Grande do Norte e a Paraíba; em Cabrobó (PE), o solo degradado se transforma num tapete de pedras. Apesar de ser mais comum na Caatinga, o problema também pode surgir em outro tipo de ambiente. A maior área em desertificação do país é de Gilbués, sul do Piauí.

DESERTO Brasileiro. Disponível em: <<http://globoruraltv.globo.com.br>> Acesso em: 23 jul. 2006.

Em relação ao processo de desertificação no Nordeste brasileiro e sua associação à pequena produção agrícola, assinale a afirmativa incorreta:

- a) A maior parte da desertificação ocorre nas pequenas propriedades do Sertão Nordestino, aumentando a pobreza no campo e o processo de emigração.
- b) A desertificação atinge as áreas produtoras de cana-de-açúcar, reduzindo a produção de álcool combustível.

- C) O processo de desertificação é derivado das forças da natureza, devido às características edafoclimáticas da região.
- d) O desmatamento, o garimpo e as queimadas são outras práticas que aceleram o processo de desertificação.
- e) A desertificação é um problema social e ambiental, pois torna a terra improdutiva e desprovida de vegetação, afetando a produção agrícola do pequeno produtor

12) (PUC-MG) - Os grandes domínios de ecossistemas brasileiros - Amazônia, Mata Atlântica e de Araucária, Pantanal, Cerrado, Caatinga, Manguezais - encontram-se ameaçados pela interferência acentuada do homem, agravando a questão ambiental no País.

Considerando-se essa realidade, é incorreto afirmar que:

- a) em qualquer um desses ecossistemas, os seres vivos relacionam-se entre si e com o ambiente físico que ocupam, procurando alcançar um equilíbrio dinâmico;
- b) mudanças nos elementos desses ecossistemas, provocadas por desmatamentos, queimadas, alterações climáticas ou pedológicas, ameaçam seu equilíbrio;
- c) entre os componentes abióticos que compõem o sítio desses domínios, estão os recursos hídricos, morfológicos e atmosféricos;
- d) entre os componentes bióticos, desconsidera-se a ação antrópica, privilegiando-se os reflexos da fauna e da flora no espaço

13) (UNIMONTES/MG) - Com a expansão das fronteiras agrícolas, intensificou-se o processo de degradação ambiental no Brasil. Muitos espaços de vegetação nativa foram substituídos por pastagem e plantação de soja.

A denominação **correta** da vegetação, do clima e da forma de relevo, que corresponde à paisagem descrita no texto, é, respectivamente:

- a) floresta tropical, tropical úmido, planalto cristalino;
- b) complexo do Pantanal, tropical, planície do Pantanal;
- c) mata equatorial, equatorial, chapadão central;
- d) cerrado, tropical, planalto central.



Solos

14) (UFJF/MG) - Leia as afirmativas abaixo:

A agricultura orgânica é um sistema holístico de gestão da produção que fomenta e melhora a saúde do agroecossistema, incluindo a biodiversidade, os ciclos biológicos e a atividade biológica do solo.

(FAO/WHO in MOREIRA, Igor. O espaço geográfico. São Paulo: Ática, 2002.)

A agricultura orgânica constitui uma parte cada vez mais importante do setor agrícola; suas vantagens ambientais e econômicas têm atraído a atenção de muitos países.

(FAO in MOREIRA, Igor. O espaço geográfico. São Paulo: Ática, 2002.)

É correto afirmar que a agricultura orgânica:

- a) protege o sistema agrícola contra o estresse ambiental;
- b) promove a monocultura e não depende de insumos industriais;
- c) baseia-se na solução de problemas de abastecimento;
- d) eleva a produtividade dos sistemas agrícolas transgênicos;
- e) faz parte do modelo conhecido como revolução verde

15) (PUC-RIO) - Analise o desenho:



Sobre os fatores que explicam a perda anual do solo, podemos afirmar que:

- I. os desmatamentos nas regiões tropicais destroem o sistema de armazenamento e reciclagem dos nutrientes e expõem o solo desprotegido à ação das chuvas;
- II. a ocupação das formações campestres das regiões temperadas pela agricultura empresarial tem provocado graves impactos ambientais;
- III. a retirada da cobertura vegetal para uso agrícola, nas regiões semi-áridas, acelera a velocidade do escoamento superficial, o que aumenta a erosão dos solos.

Assinale:

- a) se somente a afirmativa I estiver correta;
- b) se somente a afirmativa III estiver correta;
- c) se somente as afirmativas I e II estiverem corretas;
- d) se somente as afirmativas II e III estiverem corretas;
- e) se as afirmativas I, II e III estiverem corretas.

16) (FGV/RJ) Os desmatamentos, as queimadas, o estabelecimento da agropecuária extensiva ou da agricultura itinerante, seguidos pela lixiviação dos solos, podem acarretar, nas zonas tropicais:

- a) a exposição de lateritas ou crostas ferruginosas.
- b) a alteração da fertilidade dos solos podzóis.
- c) a concentração excessiva de fosfatos nos tchernozions.
- d) o empobrecimento dos solos de pradarias.
- e) o aumento do latossolo nas regiões semi-áridas.

Nível da questão: Difícil

Tipo da questão: Simples Escolha



Vegetação

17) (UFMG) - Leia este trecho:

As caatingas

"Então, a travessia das veredas sertanejas é mais exaustiva que a de uma estepe nua.

Nesta, ao menos, o viajante tem o desafogo de um horizonte largo e a perspectiva das planuras francas.

Ao passo que a caatinga o afoga; abrevia-lhe o olhar; agride-o e estonteia-o; enlaça-o na trama espinescente e não o atrai; repulsa-o com as folhas urticantes, com o espinho, com os gravetos estalados em lanças; e desdobra-se-lhe na frente léguas, imutável no aspecto desolado: árvores sem folhas, de galhos estorcidos e secos, revoltos, entrecruzados, apontando rijamente no espaço ou estirando-se flexuosos pelo solo, lembrando um bracejar imenso, de tortura, da flora agonizante.

Embora esta não tenha as espécies reduzidas dos desertos – mimosas tolhiças ou eufórbias áspers sobre o tapete de gramíneas murchas – e se afigure farta de vegetais distintos, as suas árvores, vistas em conjunto, semelham uma só família de poucos gêneros, quase reduzida a uma espécie invariável, divergindo apenas no tamanho, tendo todas a mesma conformação, a mesma aparência de vegetais morrendo, quase sem troncos, em esgalhos logo ao irromper do chão."

CUNHA, Euclides da. **Os Sertões**. São Paulo: Francisco Alves/Publifolha, 2000. p. 37-8.

A partir dessa leitura, é incorreto afirmar que, no trecho transcrito, o autor:

- a) apresenta a caatinga como uma vegetação de reduzida biodiversidade, embora de significativa multiplicidade de formas adaptativas;
- b) caracteriza a vegetação da caatinga como repulsiva, agressiva, por causa dos espinhos, galhos retorcidos, folhas urticantes;
- c) deixa entrever o caráter decidual da vegetação quando fala de árvores sem folhas, de galhos retorcidos e secos;
- d) descreve a vegetação sertaneja no período das secas; daí as expressões que remetem à agonia, à morte, à desolação

Nível da questão: Médio

Tipo da questão: Simples Escolha

18) (UFMG) - A caatinga cobre uma extensa área de território brasileiro, especialmente na região Nordeste. Trata-se de um tipo de vegetação complexa, não se constituindo em um tipo exclusivamente florestal ou herbáceo. Nesse caso, ela se assemelharia ao cerrado. A caatinga se distingue do cerrado principalmente por sua acentuada:

- a) xerofilia;
- b) altimetria;
- c) homogeneidade;
- d) higrofilia.

Nível da questão: Fácil

Tipo da questão: Simples Escolha

19) (UFJF/MG) - Observe a figura:



(Fonte: AB'SABER, A. Os domínios de natureza no Brasil: potencialidades paisagísticas. São Paulo: Ateliê Editorial, 2003.)

Marque a alternativa que caracteriza a paisagem observada:

- a) Ocorre entre os trópicos, nas terras baixas, recebendo uma precipitação elevada e bem distribuída ao longo do ano. São ecossistemas nos quais se concentra uma grande biodiversidade terrestre.
- b) Ocorre em uma região em que as chuvas são irregulares, e seu solo não é necessariamente pobre. Sua vegetação apresenta pequenas árvores espaçadas, arbustos e gramíneas.
- c) Ocorre em uma área onde as chuvas têm distribuição uniforme, com estações bem marcadas. São ecossistemas em que prevalece a formação arbórea, como os pinheiros.
- d) Ocorre em uma região de altitudes mais elevadas, com chuvas bem distribuídas durante o ano. Sua vegetação é densa,

formada principalmente por árvores. Quase não há ocorrência de arbustos e gramíneas.

e) Ocorre em uma vasta planície alagadiça, onde as chuvas se concentram em um período do ano. Apresenta uma grande variação na cobertura vegetal, em função das estações seca e chuvosa.

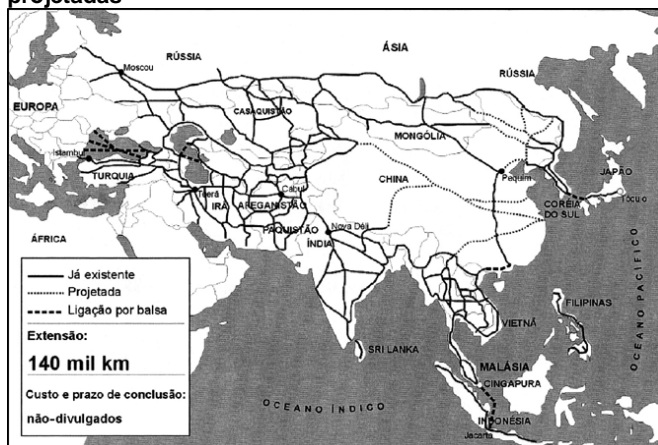
Nível da questão: Fácil

Tipo da questão: Simples Escolha



Geopolítica/ Globalização

20) (UFMG) - Analise este mapa:
Ligação Ásia-Europa: vias existentes e projetadas



Fonte: LIGAÇÃO Ásia-Europa: vias existentes e projetadas. **Folha de S. Paulo**, São Paulo, 27 abr. 2004. Caderno Mundo, p. 16. Adaptação.

A partir dessa análise e com base em outros conhecimentos sobre o assunto, é incorreto afirmar que a ligação viária Ásia-Europa já existente e projetada:

- estabelece vias de circulação entre países cuja aproximação, durante a Guerra Fria, foi dificultada por divergências ideológicas;
- atinge, na extremidade leste, civilizações marcadas por forte homogeneidade étnica e cultural;
- concretiza o sonho multissécular de estabelecimento de uma ligação continental entre o Mediterrâneo e a Bacia do Pacífico;
- contribui para a integração comercial entre regiões de grande adensamento demográfico do mundo

21) (UFLA/MG) - Observe as proposições abaixo:

- Conflitos na América Latina.
- Desmembramento da ex-União Soviética.
- Conflitos entre judeus e árabes.
- Desmembramento da Iugoslávia.
- Conflitos na África.

Todas as proposições acima indicam regiões onde ocorrem:

- conflitos étnicos.
- conflitos de fronteira.
- conflitos nacionalistas.
- disputas político-territoriais.
- recentes transformações na ordem política mundial

22) (UFV/MG) Em maio de 2004, a União Européia incluiu dez novos países, sendo que a maioria pertencia ao antigo bloco socialista. Tal medida sepultou de vez a Cortina de Ferro e a Guerra Fria. Entretanto, segundo os críticos, esta mudança não é motivo de comemoração devido aos problemas que ela pode trazer.

Das afirmativas abaixo, aquela que não pode ser considerada um problema para a nova União Européia é:

- Os países do Leste Europeu podem se tornar pólos de atração para migrantes vindos de regiões mais pobres da Europa.
- Os hábitos de consumo deixados pela economia planificada podem dificultar a integração dos novos membros.
- A entrada de países do Leste Europeu na União pode ampliar as disparidades regionais.
- A existência de medidas restritivas à entrada de trabalhadores dos novos países pode transformá-los em cidadãos de segunda categoria.
- A inclusão dos novos países-membros cria o maior mercado do mundo e põe fim à chamada "Cortina de Ferro".

23) (UFLA/MG) - Leia o texto abaixo e faça o que se pede.

"Os processos de integração regional têm assumido diferentes formas nas duas últimas décadas, segundo as características dos países envolvidos e os objetivos fixados, a partir dos interesses nacionais respectivos. Os êxitos da União Européia, do Nafta e do Mercosul, além de experiências integracionistas menos formais na Ásia-Pacífico, decorrem principalmente da capacidade de moldar esses esquemas de integração às condições particulares de cada época e região. Seria incorreto pressupor, portanto, a existência de um único modelo predeterminado de zona de livre comércio, de união aduaneira ou de mercado comum."

Sebastião do Rego Barros. Mercosul: quo vadis? **O Estado de São Paulo**, 13/12/99

Pode-se definir uma zona de livre comércio como uma etapa de formação dos blocos econômicos nos quais os países-membros:

- unificam suas atividades monetárias a partir da adoção de uma moeda comum;
- adotam uma política econômica de eliminação das barreiras alfandegárias;
- adotam medidas político-administrativas comuns a partir da criação de um parlamento único;
- estabelecem a circulação de mercadorias, pessoas e serviços entre si, sem fiscalizações de entrada e saída;
- aplicam as mesmas taxas alfandegárias aos produtos importados.

Nível da questão: Fácil

Tipo da questão: Simples Escolha

24) (UFLA/MG) - Universidade Federal de Lavras –
Questão 25:

Leia o texto abaixo e faça o que se pede.

"Os processos de integração regional têm assumido diferentes formas nas duas últimas décadas, segundo as características dos países envolvidos e os objetivos fixados, a partir dos interesses nacionais respectivos. Os êxitos da União Européia, do Nafta e do Mercosul, além de experiências integracionistas menos formais na Ásia-Pacífico, decorrem principalmente da capacidade de moldar esses esquemas de integração às condições particulares de cada época e região. Seria incorreto pressupor, portanto, a existência de um único modelo predeterminado de zona de livre comércio, de união aduaneira ou de mercado comum."

Sebastião do Rego Barros. Mercosul: quo vadis? **O Estado de São Paulo**, 13/12/99

Pode-se definir uma zona de livre comércio como uma etapa de formação dos blocos econômicos nos quais os países-membros:

- unificam suas atividades monetárias a partir da adoção de uma moeda comum;
- adotam uma política econômica de eliminação das barreiras alfandegárias;
- adotam medidas político-administrativas comuns a partir da criação de um parlamento único;

- d) estabelecem a circulação de mercadorias, pessoas e serviços entre si, sem fiscalizações de entrada e saída;
 e) aplicam as mesmas taxas alfandegárias aos produtos importados.

25) (UFMG) - Na atualidade, o terrorismo vem-se constituindo em uma preocupação crescente no cenário internacional.

Considerando-se essa informação, é incorreto afirmar que os atos terroristas:

- a) instituem uma nova forma de agressão ao patrimônio humano e material de um país, sem que algum outro Estado possa ser formalmente responsabilizado pelo ato;
 b) levam à perda do significado das fronteiras, uma vez que o combate e a prevenção contra tais atos têm sido organizados, de forma conjunta, no âmbito regional ou continental;
 c) são protagonizados por atores que não se subordinam às instituições supranacionais legitimadas como promotoras da paz e da segurança do planeta;
 d) trazem instabilidade às populações de países desenvolvidos, que usufruem de serviços públicos eficientes, de elevado padrão de vida e de instituições democráticas consolidadas.

26) (UFMG) - As questões religiosas ainda afloram em várias regiões do Globo, agravando situações de instabilidade e de conflitos, associados a outros fatores sociais, econômicos e políticos.

Na Ásia, atualmente, vários países e regiões enfrentam tensões reais ou potenciais, em que o componente religioso está presente.

Considerando-se esses países e essas questões, é incorreto afirmar que:

- a) a Índia, país de origem e de convívio de várias grandes religiões, enfrenta tanto choques entre muçulmanos e hinduístas, quanto ressentimentos contra as minorias cristãs;
 b) a Indonésia, hoje o mais populoso país muçulmano, além de conflitos étnicos, ressent-se de animosidade entre o grupo religioso predominante e as minorias cristãs;
 c) as Filipinas, país de maioria católica, no que constitui uma exceção no Sudeste Asiático, têm enfrentado conflitos com a minoria muçulmana, de tendência separatista;
 d) os países árabes – Síria, Jordânia e Iraque –, que assistiram à expansão do Cristianismo nos seus primórdios, têm nos conflitos entre cristãos, hoje em minoria, e muçulmanos mais um grave fator de instabilidade política.

27) (PUC-MG) - Segundo o Relatório do Desenvolvimento Humano de 2001, elaborado pelo PNUD (Programa Nacional das Nações Unidas para o Desenvolvimento), o Brasil apresentou as seguintes características, exceto:

- a) melhoras significativas na educação e na expectativa de vida, assim como aumento da renda per capita;
 b) aumento do número de pobres e permanência de elevada concentração de renda;
 c) alta nos gastos de amortização da dívida, cuja média equivale ao investido em saúde e educação;
 d) aumento da população urbana e da participação de idosos na pirâmide etária.

28) (PUC-MG) - Islamismo e fundamentalismo islâmico têm sido utilizados como expressões sinônimas, com certa frequência, nos meios de comunicação. Entretanto, estão longe de constituir exatamente a mesma coisa. Dentre as afirmações abaixo, aquela que não apresenta análise correta da questão islâmica é:

- a) o islamismo tem sido utilizado como uma resposta às políticas imperialistas internacionais na região do Oriente Médio;

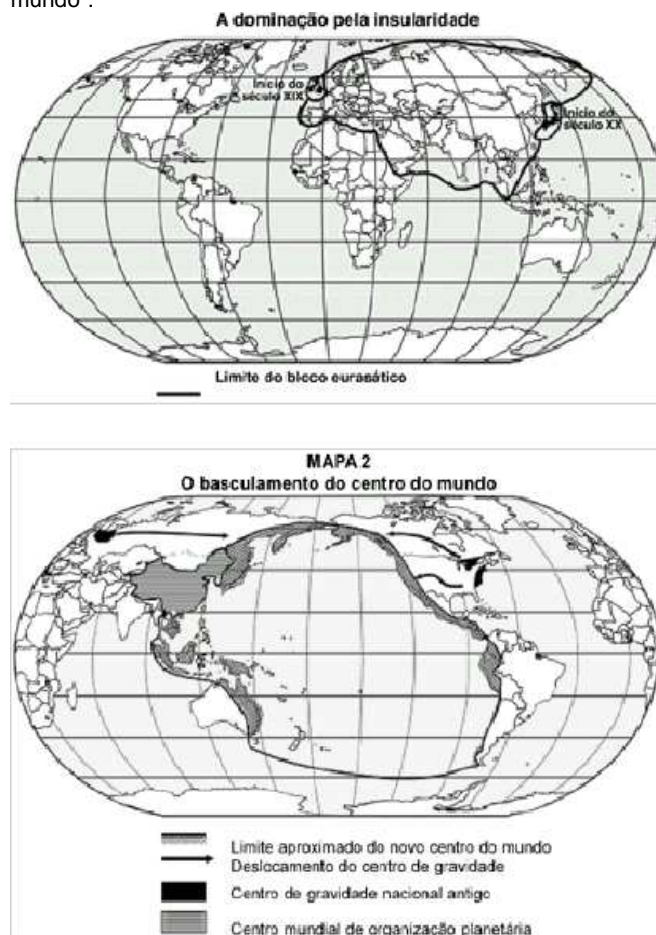
- b) o islamismo é uma religião exclusiva de povos árabes do Oriente Médio e norte da África;
 c) o fundamentalismo islâmico se relaciona à leitura literal do Corão, aplicando-a, inclusive, às questões políticas;
 d) o fundamentalismo islâmico surge como uma resposta à ausência de possibilidades de negociação para as questões políticas e sociais regionais.

29) (UFMG) - O recém-inaugurado Sistema de Vigilância da Amazônia SIVAM atende a interesses tanto do Brasil, isoladamente, quanto do mundo globalizado, em que o País se insere.

Assim sendo, é incorreto afirmar que esses interesses são:

- a) globalizados, porque o sistema permite monitorar o desmatamento de vasta reserva florestal, onde grande parte das espécies não foi sequer catalogada;
 b) nacionais, porque será possível ao Brasil exercer, em caráter permanente, o controle - aéreo e terrestre - sobre mais da metade do território nacional;
 c) globalizados, porque parte da região coberta pelo sistema abriga bases de redes de tráfico ilegal, que, hoje, comprometem a segurança do mundo;
 d) nacionais, porque revela o desenvolvimento tecnológico e científico do País em um setor de ponta, o que aumenta seu prestígio em âmbito mundial.

30) (UFMG) - Analise os mapas 1 e 2, em que estão destacadas regiões que podem ser consideradas, em diferentes momentos da evolução da economia mundial, como "centros do mundo":



(Fonte: ROPIVIA, M. L. Géopolitiques du développement, de la coopération et visions du monde au XXI e siècle. Cahiers de Géographie du Québec, Montréal, v. 39, n. 107, 1995. p. 338 e 339. (Adaptado))

Considerando-se as informações desses mapas, é incorreto afirmar que:

- a) no mapa 1, os centros mundiais são espaços privilegiados pelas riquezas naturais do subsolo e por potencialidades agrícolas, que lhes garantiram, por alguns séculos, a auto-suficiência necessária à expansão capitalista.
- b) no mapa 1, as áreas hegemônicas se constituíram pelo poder gerador de inovações tecnológicas, graças à posição de potências científicas, fator que serviu de suporte à aceleração do processo de acumulação de capital.
- c) no mapa 2, se materializam as previsões a respeito do ióséculo asiático, que se apoiará na vitalidade da economia da bacia do Pacífico, com a participação do conjunto de países formadores da APEC e de suas potências regionais.
- d) no mapa 2, a construção do iocentro do mundolr é resultado do transbordamento da riqueza de grandes potências da área e do capital extra-regional atraído, entre outros fatores, pela abertura política ou econômica de países desse espaço geográfico.

31) (UFJF/MG) - Com o fim do mundo bipolar, esperavase que a nova ordem mundial fosse criadora de maior riqueza e geradora da paz. Isso não ocorreu. A nova ordem, entre outros elementos, pode ser caracterizada:

- a) pela geografia da igualdade, destruindo zonas de exclusão, marginalização e miséria, através das campanhas de ajuda humanitária;
- b) pela multiplicação de fronteiras, surgindo nacionalismos excludentes que têm provocado conflitos armados, instigados pelos interesses das grandes potências;
- c) pela liberdade de mercado, incrementando a economia dos países subdesenvolvidos, com o fim dos subsídios praticados pelos países europeus e norte-americanos;
- d) pela revitalização e ampliação da OTAN como instrumento para a promoção da paz, deixando de ser o braço armado dos países desenvolvidos que submetiam os países do sul;
- e) pelos centros de decisão, G7, FMI, BM, OMC, entre outros, que financiam programas políticos e militares para a geração de tecnologia, respeitando os marcos territoriais.

32) (UFMG) - Analise este mapa, em que estão destacadas as áreas de abrangência do Mercosul, tanto a legal - denominada Mercosul de direito - quanto aquela em que se estabeleceram mais intensamente as relações propostas para o estágio em que se encontra esse bloco econômico - denominada Mercosul de fato:



(Fonte: FIRKOWSKI, O L.C. de F. Industrialização, questão ambiental e Mercosul. Geografia, Londrina, v. 8, n. 2, 1999. p. 163. (Adaptado))

Considerando-se a área do Mercosul de fato, é incorreto afirmar que ela:

- a) comprova o interesse manifestado por alguns países não-membros de se integrar a esse bloco econômico;
- b) coincide com o espaço de maior densidade demográfica e de economia mais dinâmica na América do Sul;
- c) expressa as diversidades econômicas regionais nos países de maior extensão territorial;
- d) engloba a região que tem permitido a livre circulação de produtos, de capitais e de pessoas

33) (UFJF/MG) - "Uma das grandes preocupações da geografia é a regionalização da superfície terrestre, do espaço que serve de morada para a humanidade."

(VESENTINI, J. W. Sociedade e Espaço: Geografia Geral e do Brasil. São Paulo: Ática, 2000.)

Observe os mapas abaixo:



(Fonte: HAESBAERT, Rogério. Territórios Alternativos. São Paulo: Contexto.)



(Fonte: Trabalhando com mapas. São Paulo: Ática.)

Marque a alternativa correta:

- a) Os mapas I e II representam a divisão do mundo a partir do término da Segunda Guerra Mundial, quando se instalou a chamada Guerra Fria.
- b) O mapa II antecede ao mapa I, porque engloba os países do Primeiro, Segundo e Terceiro Mundo, classificação que privilegia aspectos sociais.
- c) O mapa I é uma atualização do mapa II, pois com o fim do mundo bipolar, aumentou a oposição entre o Norte industrializado e o Sul subdesenvolvido.
- d) Os mapas I e II representam a regionalização do espaço baseada em critérios que se fundamentam na diversidade cultural dos países desenvolvidos.
- e) Os mapas I e II representam o recuo das áreas anecúmenas, fruto da biotecnologia, o que proporciona uma nova regionalização do mundo.



Demografia

34) (UFMG) - A ONU organizou, no final do século XX, um plano de ação – denominado Metas do Milênio –, que tem como um de seus objetivos a melhoria da condição de vida nas

regiões menos desenvolvidas do mundo. De acordo com o cronograma desse plano, os níveis de pobreza da população mundial começariam a se reduzir nos primeiros anos do século XXI.

Considerando-se essa informação, é incorreto afirmar que o fator responsável pelo não cumprimento do cronograma do Plano de Metas da ONU é:

- a exigência da ONU quanto à aplicação de estratégias de desenvolvimento sustentável nos países pobres tem reduzido o retorno de capital, desestimulando os investimentos estrangeiros;
- a defasagem entre a ajuda prometida pelos países da OCDE – ou pelos países mais desenvolvidos – e aquela efetivamente concedida até o momento atual;
- a incapacidade de universalização da educação primária, já constatada em um número significativo dos países-alvo do programa;
- o aumento do percentual da população que convive com a fome em regiões como o Oriente Médio e a África subsaariana, em contraposição ao que se esperava no conjunto das Metas.

35) (PUC-MG) - A questão deve ser respondida com base no esquema abaixo:

Com a globalização, ocorreu a intensificação do processo migratório mundial, devido à adoção de políticas de incentivos à migração pelas grandes potências mundiais.

PORQUE

A maior facilidade de circulação interfronteiras criou um ambiente propício às migrações.

- As duas afirmativas são verdadeiras.
- As duas afirmativas são falsas.
- A primeira afirmativa é falsa, e a segunda é verdadeira.
- A segunda afirmativa é falsa, e a primeira é verdadeira.

Geografia Urbana

36) (UFJF/MG) - Leia, com atenção, o texto abaixo:

“Entre as mudanças que vêm ocorrendo na sociedade brasileira destaca-se o agravamento da pobreza e da exclusão social nas regiões metropolitanas. Além dos problemas que acarreta, a expansão da pobreza metropolitana não encontra arranjos institucionais que contribuam para a eficácia das políticas governamentais. Estas raramente consideram a nova geografia da exclusão e seus requisitos quanto à tomada de decisões e à coordenação das ações que cabem às diferentes unidades da Federação. A preocupação com o rápido agravamento das desigualdades sociais nas grandes cidades deu origem à expressão “metropolização da pobreza”, que se justifica em termos quantitativos e das transformações qualitativas que estão ocorrendo nas regiões metropolitanas a partir de meados da última década”.

REZENDE, Fernando; TAFNER, Paulo (Org.). **Brasil: o estado de uma nação**. São Paulo: Ipea, 2005.

A expansão da pobreza nas regiões metropolitanas ocorre, porque:

- é um problema que se restringe exclusivamente a essas aglomerações e é um processo de degradação urbana por meio da invasão e ocupação ilegal de áreas públicas e privadas, como é o caso das áreas de preservação ambiental e de proteção de mananciais;
- os domicílios pobres e indigentes localizados nessas regiões são os menos afetados pela crise da economia, já que neles a renda do trabalho aumenta e é menor o peso dos benefícios constitucionais sobre a renda familiar;
- durante os períodos de estagnação econômica ou de crescimento lento, as atividades muito sensíveis à queda no consumo são as primeiras a serem afetadas e uma parcela considerável dessas atividades localiza-se nessas regiões;
- as melhorias das condições de moradia das populações de baixa renda estão atreladas ao financiamento privado, ocasionando a menor participação de favelas, casas de cômodos e cortiços no total dos domicílios urbanos;

e) o setor informal, entendido como o conjunto dos postos de trabalho protegidos pela legislação trabalhista, decresceu na última década, explicando assim a propagação da qualificação da mão-de-obra nessas regiões.

37) (UFV/MG) Observe as figuras abaixo, que representam o uso do espaço de uma cidade em dois momentos distintos:



O uso e a apropriação de determinados espaços pelos agentes sociais definem fronteiras que são determinadas por relações de poder. Tal processo estabelece uma ordem espacial, em que um grupo exerce poder sobre o espaço.

Assinale o conceito geográfico que está relacionado às práticas espaciais expressas nas figuras:

- Região
- Paisagem
- Lugar
- Território
- Ambiente



Geografia Econômica

38) (UFMG) - O comércio internacional, após o fim da Guerra Fria, foi marcado por importantes mudanças.

Assim sendo, é incorreto afirmar que, entre essas mudanças, se inclui o fato de que:

A -a nova configuração do mercado internacional, resultante do crescente antagonismo entre países pobres e ricos, ou seja, entre Sul e Norte, provocou redirecionamento dos fluxos de troca;

B -a Organização Mundial do Comércio (OMC), visando a ampliar a redução de tarifas alfandegárias e a dar à instituição maior poder de controle sobre o comércio internacional, substituiu o Acordo Geral de Tarifas e Comércio (GATT);

C -o comércio apresentou grande crescimento em algumas áreas continentais, chegando a superar, em certos casos, as trocas realizadas com países situados a distâncias maiores;

D -o comércio internacional adotou regras que facilitam as trocas, mas, por outro lado, conservou, ainda, artifícios que restringem as vantagens dos países menos desenvolvidos.

39) (UNIFENAS/MG) - A partir do século XIX, nos países tropicais, um sistema agrícola tem se destacado por utilizar importantes efetivos de mão-de-obra, basear-se em monoculturas, depender da demanda externa, sofrer oscilações de preço e gerar um regime de grandes propriedades. Tal sistema agrícola é denominado:

- agricultura itinerante.
- sistema de “plantation”.
- lavoura de roça.
- agricultura de subsistência.
- sistema de “jardinagem”.

Nível da questão: Médio

Tipo da questão: Simples Escolha

40) (UNIFEI/MG) -Desde a Antiguidade as queimadas têm sido utilizadas como forma de limpeza dos terrenos. Porém, sempre houve controvérsias sobre seus efeitos. Com base nessa afirmação, assinale a alternativa incorreta:

- a) Em períodos de seca a vegetação fica mais susceptível a queimadas e incêndios.
 b) A erosão do solo é acentuada em áreas onde houve queimadas.
 c) As queimadas que se praticam anualmente para facilitar o preparo do solo trazem benefícios ao agricultor, no longo prazo.
 d) As queimadas utilizadas no desbravamento de terras destroem grande parte da matéria orgânica presente no solo.

41) (PUC-MG) - A indústria, hoje sofre reflexos da globalização, dos avanços tecnológicos e da capacidade de integração das redes. Assinale a alternativa em que **não** se aponta fator relevante para a indústria contemporânea.

- a) A flexibilização da produção leva a empresa a adequar-se às exigências do mercado, cada vez mais diversificado.
 b) Os grandes centros de decisão modificam e articulam o espaço onde as empresas transnacionais estão inseridas.
 c) O fortalecimento do mercado tecnológico amplia e assegura a competitividade dos países de industrialização tardia no contexto global.
 d) Os fluxos mais intensos decorrentes de sistemas integrados de redes favorecem a maior interação entre as empresas e a produção.

42) (UNIFENAS/MG): “Na prática, a existência de _____ em um país e a tentativa de industrialização não têm bastado para os países _____ atingirem a independência econômica. Em determinados momentos desse processo, a própria manutenção do crescimento industrial tem obrigado as indústrias de um país dependente a se associarem a _____ quando não são absorvidas por estas.”(Melhem Adas)

- a) população numerosa / subdesenvolvidos / empresas nacionais
 b) baixa população / desenvolvidos / empresas multinacionais
 c) baixa população / desenvolvidos / empresas nacionais
 d) população numerosa / subdesenvolvidos / empresas multinacionais
 e) população numerosa / em desenvolvimento / empresas nacionais

43) (UFMG) - Leia o mapa:



Fonte: Adaptado de KRAJEWSKI, A. C.; GUIMARÃES, R. B.; RIBEIRO, W. C. **Geografia: pesquisa e ação**. 2. ed. São Paulo: Moderna, 2003.

Considerando as transformações da Geografia Industrial Européia, marque a alternativa que apresenta corretamente a relação entre o símbolo e o seu significado na legenda do mapa.

- a) áreas portuárias industrializadas
 b) regiões industriais em declínio
 c) regiões industriais de alta tecnologia
 d) descentralização industrial
 e) áreas industriais em desenvolvimento

44) (PUC-MG) - Verifique se as afirmativas abaixo são falsas ou verdadeiras e responda à questão segundo o comando que as segue:

I. A modernização da agricultura tem conduzido o Nordeste a diminuir as disparidades no contexto regional brasileiro, através da distribuição equitativa da renda gerada localmente.

II. A modernização da agricultura tem conduzido à elevação das disparidades intra-regionais e ao surgimento de propostas de emancipação do chamado "novo Nordeste".

III. O crescente investimento na indústria local, em grande parte decorrente da disputa por investimentos entre estados, tem colaborado para a ampliação da participação do Nordeste na renda industrial brasileira.

Assinale a alternativa correta:

- a) Apenas I é verdadeira.
 b) Apenas II e III são verdadeiras.
 c) Apenas I e III são verdadeiras.
 d) I, II e III são verdadeiras.


45) (UEMG) - São sistemas agrícolas aqueles largamente aplicados em regiões onde a agricultura é descapitalizada, voltados para a subsistência da família do agricultor que se alimenta praticamente apenas daquilo que planta e possui baixa produtividade.

Assinale, abaixo, o tipo de agricultura a que se refere este texto em destaque:

- a) Itinerante que ainda existe nos países africanos, asiáticos e latino-americanos.
 b) Jardinagem com enorme produção de arroz, praticada em planícies irrigadas do sul e sudeste da Ásia.
 c) Plantation que configura a grande propriedade monocultura, com produção de gêneros tropicais em países subdesenvolvidos.
 d) Empresas agrícolas com elevado desenvolvimento tecnológico.

46) (UFJF/MG) - De acordo com Schumpeter, a economia industrial evoluiu por meio da destruição criadora. Quando um conjunto de novas tecnologias encontra aplicação produtiva, as tecnologias tradicionais são “destruídas”, isto é, deixam de criar produtos, de competir no mercado e acabam sendo abandonadas.

Marque a alternativa correta:



(FONTE: Adaptado de MAGNOLI, Demétrio & ARAÚJO, Regina. Projeto de ensino de geografia: natureza, tecnologia, sociedades, geografia geral. São Paulo: Moderna, 2000.)

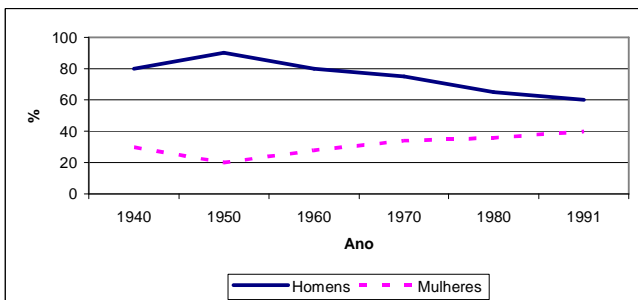
- a) Na fase da estabilização, as pequenas empresas conseguem vencer a concorrência e dominam o mercado.
 b) É na fase descendente que ocorre a destruição criadora e não há excesso de oferta.
 c) Na fase inicial de cada onda, os mercados estão saturados e as grandes empresas desaparecem.
 d) Em todas as ondas do século XX, a energia foi o principal fator de localização das indústrias transnacionais.
 e) A introdução de novas tecnologias implica novas formas de organização do espaço geográfico.

47) (UFJF/MG) - Leia, com atenção, o texto abaixo:

"Seja no mundo industrializado, onde as comunidades agrícolas estão envelhecendo e se esvaziando, ou nos países em desenvolvimento, onde o crescimento populacional está elevando cada vez mais o número de lavradores e cada geração herdando lotes menores, é cada vez mais difícil tirar o sustento da agricultura. Uma combinação de declínio de renda, elevação de dívida e agravamento da pobreza rural, está forçando mais pessoas a abandonarem a lavoura como atividade principal, ou o próprio campo – uma encruzilhada desorientante, considerando que os fazendeiros produzem o único bem do qual a raça humana não pode se privar."

Com base nas informações do texto e em relação à questão agrária mundial, pode-se afirmar que:

- após 1945, o esvaziamento do campo tornou-se um fenômeno exclusivo dos países em desenvolvimento;
- a adoção de uma política malthusiana solucionaria os problemas do empobrecimento da população rural;
- os números declinantes da população rural significam uma redução da importância da agricultura em todo o mundo;
- o processo de concentração de terras ocorre tanto em países industrializados como em países em desenvolvimento;
- a parcela de maior lucro do produto agrícola está no trabalho do fazendeiro, prejudicando as indústrias de processamento.

48) Observe o gráfico abaixo e assinale a afirmativa CORRETA.**Estrutura da população economicamente ativa segundo o sexo:**

- O gráfico reflete uma clara tendência de crescente incorporação de mão-de-obra feminina na PEA.
 - A participação das mulheres na PEA ativa é superior à dos homens.
 - O gráfico evidencia a permanência das mulheres no trabalho doméstico.
 - Ao longo do século XX houve um crescimento contínuo da participação feminina na PEA.
 - O pós-guerra caracterizou-se pelo crescimento da participação masculina na PEA, em detrimento da participação feminina.
- 49)** A utilização do espaço agrário brasileiro apresenta muitas variações, devido à influência dos fatores naturais, histórico-sociais e técnicos. Marque a alternativa que NÃO corresponde às características do espaço agrário brasileiro.

- A concentração populacional e o elevado nível de urbanização fazem do Sudeste o grande mercado consumidor do país, para o qual se volta boa parte das atividades agrárias organizadas com fins comerciais.
- A região Sul apresenta uma grande independência em relação ao Sudeste, pela grande expansão da fronteira agrícola, nos últimos anos, nos três estados que a compõem.
- Em 1960, a área irrigada do Brasil estava em torno de 460 mil hectares. Atualmente, este número ultrapassa os 3

milhões de hectares, crescimento que foi fruto da atuação do Estado.

- No Centro-Sul, que engloba as regiões Sudeste, Sul e a porção meridional do Centro-Oeste, o aproveitamento do espaço agrário é mais intensivo.

e) Um dos problemas do campo no Brasil é a distorção da estrutura fundiária, acentuada com o processo de modernização da agricultura.

**50) (UFV/MG) - Observe as figuras a seguir, que ilustram diferentes paisagens encontradas no mundo:**

1



2



3



4

(fonte: Brasil. Ministério da educação. Parâmetros em Ação: Ensino Médio- Ciências Humanas e suas tecnologias Brasília: MEC, 2002, p. 402-403.)

De acordo com as figuras e os conhecimentos sobre os conceitos geográficos, assinale a afirmativa incorreta:

- As paisagens retratadas nas quatro figuras são resultado de um conjunto de formas materiais dispostas e articuladas no espaço geográfico.
 - As figuras 1 e 3, ao representarem diferentes paisagens, refletem as ações transformadoras do homem sobre a natureza.
 - A figura 4 indica que as condições naturais dos desertos impedem que os homens os transformem numa paisagem cultural.
 - As paisagens reproduzem diferentes imagens do mundo, ressaltando os aspectos da cultura dominante e de grupos alternativos (não dominantes).
 - A paisagem retratada na figura 2 ilustra a intensa transformação da natureza pela ação humana, criando elementos artificiais.
- 51) (UFMG) - Na atualidade, o terrorismo vem-se constituindo em uma preocupação crescente no cenário internacional.**

Considerando-se essa informação, é incorreto afirmar que os atos terroristas:

- instituem uma nova forma de agressão ao patrimônio humano e material de um país, sem que algum outro Estado possa ser formalmente responsabilizado pelo ato;
- levam à perda do significado das fronteiras, uma vez que o combate e a prevenção contra tais atos têm sido organizados, de forma conjunta, no âmbito regional ou continental;
- são protagonizados por atores que não se subordinam às instituições supranacionais legitimadas como promotoras da paz e da segurança do planeta;
- trazem instabilidade às populações de países desenvolvidos, que usufruem de serviços públicos eficientes, de

elevado padrão de vida e de instituições democráticas consolidadas.

52) (UFJF/MG) - Leia, com atenção, o texto abaixo:
Lançado pela UNESCO em março de 2004, o Relatório de Desenvolvimento Juvenil 2003 revela a situação social e econômica dos jovens brasileiros na faixa de 15 a 24 anos. Os indicadores – taxa de analfabetismo de jovens, escolarização adequada, qualidade de ensino, taxa de mortalidade por causas internas e renda familiar per capita dos jovens – combinam-se para estruturar o Índice de Desenvolvimento Juvenil (IDJ). Levando-se em consideração esses indicadores e a dinâmica populacional brasileira, pode-se afirmar que:

- ao contrário do que ocorre com a população em geral, a mortalidade juvenil vem crescendo historicamente, sendo a sua principal causa os fatos violentos;
- as ilimitadas condições de acesso a uma educação de qualidade proporcionam aos jovens brasileiros, em sua maioria, uma atividade definida;
- a melhor distribuição da renda no país tem gerado formas homogêneas de acesso dos jovens, especialmente os nordestinos, aos serviços sociais básicos;
- apesar da média de anos de estudo permanecer inalterada, não houve redução significativa nas taxas de analfabetismo entre os mais jovens;
- o percentual de população jovem, principalmente de afrodescendentes, é pequeno, o que torna a demanda pelo ensino médio menor que a do superior

53) (UNIFEI/MG) A partir de 1990, a ONU passou a calcular o IDH – Índice de Desenvolvimento Humano – de quase todos os países do mundo. Esse índice leva em consideração não só os indicadores econômicos clássicos, como a renda per capita e o PIB, mas também os chamados indicadores sociais, como: expectativa de vida, analfabetismo e mortalidade infantil, entre outros. O IDH varia de 0 a 1. Sobre essa variação, é correto afirmar que:

- IDH mais próximo de 1, melhor a qualidade de vida;
- IDH mais próximo de 0, melhor a qualidade de vida;
- IDH de 0,5 indica a melhor qualidade de vida;
- IDH de 0,5 indica a pior qualidade de vida.

54) (PUC-MG) - Na União Européia, as taxas de natalidade são baixíssimas e já existe escassez de mão-de-obra em certos países. Apesar da necessidade de imigrantes para sustentar o crescimento da sua economia, a UE tem adotado medidas cada vez mais rigorosas para restringir a entrada desses imigrantes em seu território.

Considerando a afirmativa, assinale a opção incorreta:

- Os países da UE discutem uma política comum contra a imigração ilegal e a favor da criação de uma força europeia de policiamento de fronteiras.
- Os países da UE têm imposto novas restrições precedidas por leis rigorosas que dificultam a entrada e a permanência de trabalhadores estrangeiros.
- A UE condiciona que os imigrantes só ingressem em seu território se estiverem à procura de emprego, devendo dirigir-se a, no mínimo, três países registrando suas opções de trabalho.
- O crescente número de imigrantes tem sido responsabilizado, pela população da UE, pelo aumento do desemprego e dos índices de criminalidade, favorecendo a ascensão de representantes de partidos de direita ao poder

55) (UFMG) As religiões carecem de análises e conhecimentos mais precisos no que se refere à sua distribuição no espaço geográfico - vale dizer, uma Geografia das Religiões. A respeito da distribuição geográfica das grandes religiões, é incorreta afirmar que:

- as regiões asiáticas de predominância hinduísta, confucionista e, mesmo, muçulmana assistem, nos tempos

atuais, ao avanço do budismo, tradicional religião originária do Tibet;

b) a Europa do Sudeste - a Europa balcânica - é, predominantemente, cristã ortodoxa, um ramo multissecular do Cristianismo, que se estende, também, pela Rússia Européia e Asiática;

c) o Oriente Médio, que viu o nascimento do Judaísmo e do Cristianismo, bem como o início da expansão deste último, se tornou majoritariamente muçulmano e cada vez menos cristão;

d) o mundo ocidental, pode-se dizer, é cristão - católico e protestante -, mas qualquer tentativa de generalização é inadequada para o mundo oriental, principalmente o Extremo Oriente.

56) (PUC-MG) - A realidade econômica, social e ambiental da África é um retrato expressivo dos problemas da humanidade: fome, miséria, doenças, seca, devastação ambiental...

Sobre a ocupação do continente africano e os reflexos da ação antrópica nesse espaço periférico do contexto global, assinale a alternativa incorreta:

- É um continente onde os problemas se agravam acentuadamente junto à população mais pobre, ampliando os extremos de desigualdades.
- O elevado índice de mortalidade restringe o aumento demográfico e as necessidades de consumo, gerando excedentes que favorecem as exportações.
- A devastação do seu meio ambiente é, muitas vezes, mais rápida do que a capacidade de reconstituição dos ecossistemas.
- As oligarquias promovem um consumo excessivo dos recursos naturais do continente, ameaçando sua biodiversidade e expondo o povo à miséria.

57) (PUC-MG) - (PUC CE MG) CE Pesquisa do IBGE sobre a queda dos salários e o aumento do desemprego no Brasil mostra um quadro grave em que, de 1999 a julho de 2000, os salários tiveram queda de 15,3% e, de 1995 a 2001, a taxa de desemprego passou de 4,8% para 7,5%.

Considerando-se a previsão de um crescimento econômico insignificante os dados acima, é incorreto afirmar que:

- a taxa de crescimento demográfico de 1,3% ao ano, prevista pelo IBGE, contribui para reduzir os índices de desemprego;
- a taxa de desemprego incide diretamente sobre a PEA, de 72 milhões de pessoas, gerando um expressivo volume absoluto e configurando um dos maiores contingentes de desempregados do mundo;
- no contexto demográfico atual, o País vive uma concentração populacional na fase de vida adulta, o que contribui para agravar o problema de desemprego;
- os interesses organizativos de estratégia e gestão das empresas visam a alcançar competitividade, realimentando as taxas de desemprego estrutural.

58) (UFJF/MG) - A migração com destino ao Nordeste foi a única que aumentou na última década do século XX. Em todas as demais regiões do país, o fluxo de imigrantes diminuiu. Essa radical mudança de comportamento em um período tão curto mudou o mapa dos principais fluxos migratórios do país. (Adaptado de Folha de S. Paulo, 6 de agosto de 1997, in MORANDI, Sônia. Espaço e Técnica. Copidart/CEETEPS, 2001) (Mapas: adaptados de ADAS, Melhem. Panorama geográfico do Brasil. São Paulo: Moderna, 1998.)

Marque a alternativa correta:



a) O mapa representa as migrações internas de 1830-1940, quando o sistema de transporte não permitia deslocamentos a grandes distâncias.



b) O mapa representa as migrações internas de 1940-1950, quando a base ideológica dos governos militares era promover a integração.



c) O mapa representa as migrações internas de 1980-1990, quando a busca de novas fronteiras agrícolas atraiu população para os estados do Sul.



d) O mapa representa as migrações internas de 1950-1960, quando a industrialização do Sudeste foi o grande fator de atração populacional.



e) O mapa representa as migrações internas de 1990-2000, quando ocorreu o movimento de retorno para as áreas de repulsão populacional.



Geografia Regional

59) (UFV/MG) - Leia o texto abaixo:

[...] Vistos durante a Revolução Cultural (1966-76) como o símbolo do colonialismo britânico e desperdício da escassa terra agricultável da China, os campos de golfe se espalharam rapidamente após 1984, data da abertura do primeiro clube depois da revolução de 1949.

A China tem hoje 176 campos de golfe [...]. A rápida proliferação dos campos levou o governo a suspender a construção de novos clubes, com o objetivo de preservar terra para a agricultura e poupar água. Os clubes atuais ocupam 37 000 hectares e há dezenas de outros em construção. [...]

Até pouco tempo, os chineses eram minoria nos campos locais, mas a relação hoje se inverteu. A Associação de Jogadores de Golf da China estima em 24 mil o número de chineses entre os praticantes, 58% do total de jogadores no país.

TREVISAN, Cláudia. China teme "latinização" da sociedade. **Folha de S. Paulo**, 9 maio 2004. Mundo, p. 21.

O texto acima se refere às contradições do processo de modernização em curso na China. Entretanto, esse processo vem sendo elogiado por especialistas em mercado como exemplo de modernização bem sucedida, devido às elevadas taxas de crescimento econômico sustentado por um longo período.

Das alternativas a seguir, assinale aquela que não apresenta contradições sociais, resultantes do processo de modernização acelerada da China:

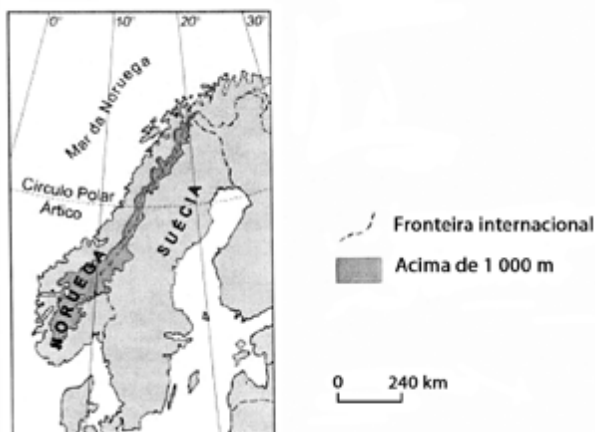
a) Apresenta um crescimento econômico de cerca de 7% ao ano, porém 800 milhões de chineses vivem com menos de dois dólares por dia.

b) O crescimento dos últimos anos está relacionado à abertura econômica e sua posterior aceitação na Organização Mundial de Comércio.

- c) É hoje um dos principais mercados de produtos de luxo do mundo, embora grande parte de sua população resida no campo.
- d) O PIB *per capita* ultrapassou os 1.000 dólares, embora o salário médio seja de 134 dólares.
- e) A sua economia atingiu 1,41 trilhão de dólares, no entanto ocupa o 104º lugar na classificação do Índice de Desenvolvimento Humano (IDH) da ONU.

60) (UFMG) - Analise este mapa:

Península Escandinava



A partir da análise e interpretação desse mapa e com base em outros conhecimentos sobre o assunto, é incorreto afirmar que:

- a) a geografia escandinava, mais ainda a da Noruega, favoreceu a vocação marítima do seu povo desde a Idade Média;
- b) a posição geográfica muito setentrional desses dois países peninsulares os torna tão frios, que o povoamento dos seus territórios fica reduzido às suas margens litorâneas meridionais;
- c) o litoral norueguês, já longo pela forma do País, ganha muito em extensão por ser extremamente recortado por inúmeros fiordes;
- d) o relevo acidentado, de altitudes mais elevadas, que se estende de norte a sul da Península, como uma espinha dorsal, dificulta a formação de extensos rios nos dois países.

61) (UFMG) - Considerando-se as paisagens serranas do meio tropical do Sudeste brasileiro, com altitudes superiores a 1 200 m – como as da Serra da Mantiqueira –, é incorreto afirmar que elas:

- a) favorecem o desenvolvimento de atividades turísticas diferenciadas – como as esportivas, ecológicas, de inverno –, relevante opção econômica nos tempos atuais;
- b) oferecem alternativas econômicas diferentes nas regiões tropicais, ao possibilitarem o desenvolvimento de culturas temperadas, sobretudo de frutas;
- c) registram, mesmo estando em latitudes relativamente baixas, temperaturas que podem atingir valores absolutos próximos ou inferiores a 0°C;
- d) se caracterizam pelo acentuado efeito orográfico, que cria regiões semi-áridas nos vales e nas baixas vertentes ocidentais.

62) (CEFET/MG) - “O geógrafo Pedro Pinchas propôs, em 1967, a divisão regional do Brasil em três regiões geoeconômicas ou complexos regionais (...) Essa divisão regional tem por base as características geoeconômicas e a formação histórico-econômica do Brasil (...)”

(ADAS, Melhem. **Geografia: o Brasil e suas regiões geoeconômicas**. São Paulo: Moderna, 1996).

Aos complexos regionais da Amazônia, do Nordeste e do Centro-Sul, propostos por Geiger, podem-se atribuir, respectivamente, as seguintes características:

- a) povoado no período colonial – industrializado – baixa densidade demográfica;
- b) agricultura tecnificada – atração de mão-de-obra – predomínio de população rural;
- c) pequenas propriedades rurais – industrialização tradicional – economia extrativa;
- d) expansão da fronteira agrícola – colonização através da economia açucareira – o mais industrializado e urbanizado.

63) (CEFET/MG) - O Complexo Regional do Nordeste concentra cerca de 30% da população do país, constituindo a região-problema em virtude das grandes desigualdades sociais e econômicas.



Sobre o problema da fome e da desnutrição no Nordeste, é correto afirmar que:

- a) se trata de um problema social e político ancorado na desigual distribuição da renda;
- b) constitui um problema exclusivo do Sertão Nordestino;
- c) tem como meio mais eficaz de solução a política assistencialista do Estado;
- d) Atinge o Nordeste em verdadeiros surtos, de forma esporádica, justamente nos períodos de seca prolongada.

64) (PUC-MG) A Região Centro-Sul gera a parcela mais significativa da renda industrial e agrícola do Brasil. Entretanto, a sua densidade econômica conduziu à configuração de determinados problemas, derivados de, exceto:

- a) fraca concentração de renda regional e social, potencializando conflitos de classes;
- b) aumento da demanda por serviços públicos e de infraestrutura, em consequência do adensamento populacional, e subsequente sucateamento desses serviços;
- c) deterioração da paisagem urbana com a destruição de áreas verdes e a poluição dos recursos hídricos;
- d) elevação dos preços dos terrenos nos grandes centros, conduzindo a um transbordamento do processo de industrialização para outros espaços.